



### ③ 中高 社会科問題の解答について (注意)

1. 解答はすべて、別紙のマークシートに記入すること。
2. マークシートは、電算処理するので、折り曲げたり、汚したりしないこと。また、マーク欄はもちろん、余白にも不要なことを書かないこと。
3. 記入は、HBまたはBの鉛筆を使って、ていねいに正しく行うこと。(マークシート右上の記入方法を参照) 消去は、プラスチック消しゴムで念入りに行うこと。
4. 名前の記入 フリガナ、名前を記入すること。
5. 教科名の記入 教科名に「社会」と記入すること。
6. 受験番号の記入 受験番号欄に5けたの数で記入したのち、それをマークすること。
7. 解答の記入
  - ア. 小問の解答番号は1から56までの通し番号になっており、例えば、20番を 


20
----

 のように表示してある。
  - イ. マークシートのマーク欄は、すべて1から0まで10通りあるが、各小問の選択肢は必ずしも10通りあるとは限らないので注意すること。
  - ウ. どの小問も、選択肢には①、②、③……の番号がついている。
  - エ. 各問いに対して一つずつマークすること。

(マークシート記入例)

フリガナ	コウベ タロウ	教科名	社会
名前	神戸 太郎		

受験番号					小問番号	解答記入欄	小問番号	解答記入欄	小問番号	解答
						1 - 25		26 - 50		51
数字で記入……					1	0 0 0 0 0 0 0 0 0 0	26	0 0 0 0 0 0 0 0 0 0	51	0 0 0 0
					2	0 0 0 0 0 0 0 0 0 0	27	0 0 0 0 0 0 0 0 0 0	52	0 0 0 0
					3	0 0 0 0 0 0 0 0 0 0	28	0 0 0 0 0 0 0 0 0 0	53	0 0 0 0
					4	0 0 0 0 0 0 0 0 0 0	29	0 0 0 0 0 0 0 0 0 0	54	0 0 0 0
					5	0 0 0 0 0 0 0 0 0 0	30	0 0 0 0 0 0 0 0 0 0	55	0 0 0 0
					6	0 0 0 0 0 0 0 0 0 0	31	0 0 0 0 0 0 0 0 0 0	56	0 0 0 0
					7	0 0 0 0 0 0 0 0 0 0	32	0 0 0 0 0 0 0 0 0 0	57	0 0 0 0
					8	0 0 0 0 0 0 0 0 0 0	33	0 0 0 0 0 0 0 0 0 0	58	0 0 0 0
					9	0 0 0 0 0 0 0 0 0 0	34	0 0 0 0 0 0 0 0 0 0	59	0 0 0 0
					10	0 0 0 0 0 0 0 0 0 0	35	0 0 0 0 0 0 0 0 0 0	60	0 0 0 0
					11	0 0 0 0 0 0 0 0 0 0	36	0 0 0 0 0 0 0 0 0 0	61	0 0 0 0



【1】 次の問いに答えよ。

(1) 次の文は、小学校（中学校）学習指導要領解説（平成29年7月 文部科学省）特別の教科 道徳編「第2節 道徳科の目標」の一部である。次の（ア）～（ウ）に入る語句の適切な組合せを①～⑤から選び、番号で答えよ。

特定の価値観を押し付けたり、（ア）をもたず言われるままに行動するよう指導したりすることは、道徳教育が目指す方向の対極にあるものと言わなければならない。多様な（イ）の、時に対立がある場合を含めて、自立した個人として、また国家・社会の形成者としてよりよく生きるために道徳的価値に向き合い、いかに生きるべきかを自ら（ウ）姿勢こそ道徳教育が求めるものである。

- ① ア 積極性    イ 考え方    ウ 議論する
- ② ア 主体性    イ 価値観    ウ 考え続ける
- ③ ア 客観性    イ 価値観    ウ 議論する
- ④ ア 主体性    イ 生き方    ウ 考え続ける
- ⑤ ア 客観性    イ 生き方    ウ 受け止める

1

(2) 小学校（中学校）学習指導要領解説（平成29年7月 文部科学省）特別の教科 道徳編「第2節 道徳科の目標」等に関する記述のうち、適切でないものを①～⑤から選び、番号で答えよ。

- ① 道徳科が学校の教育活動全体を通じて行う道徳教育の要としての役割を果たすことができるよう、計画的、発展的な指導を行うことが重要である。
- ② 道徳科が目指すものは、よりよく生きるための基盤となる道徳性を養うことである。
- ③ 道徳的価値の理解のための指導をする際には、道徳的価値のよさや大切さを観念的に理解することも必要である。
- ④ 道徳科の学習を進めるに当たっては、自己を見つめ、物事を（\*広い視野から）多面的・多角的に考え、自己（\*人間として）の生き方についての考えを深める学習にする必要がある。
- ⑤ 児童（\*生徒）が道徳的価値を自覚し、自己（\*人間として）の生き方について深く考え、日常生活や今後出会うであろう様々な場面、（\*及び）状況において、道徳的価値を実現するための適切な行為を主体的に選択し、実践できるようにすることが大切である。

（\*は、中学校、特別支援学校中学部）

2

(3) 小学校(中学校)学習指導要領(平成29年3月告示 文部科学省)の「第3章 特別の教科 道徳」の内容項目について、(ア)～(ウ)に入る語句の適切な組合せを①～⑤から選び、番号で答えよ。

- A 主として(ア)に関する事
- B 主として人との関わりに関する事
- C 主として集団や(イ)との関わりに関する事
- D 主として(ウ)や自然、崇高なものとの関わりに関する事

- ① ア 自分自身    イ 社会    ウ 環境
- ② ア 自己        イ 地域    ウ 環境
- ③ ア 自分自身    イ 社会    ウ 生命
- ④ ア 自分自身    イ 地域    ウ 宇宙
- ⑤ ア 自己        イ 社会    ウ 生命

【2】 次の問いに答えよ。

- (1) 中学校学習指導要領（平成29年3月告示 文部科学省）の「第2節 社会」について、次の文は「第3 指導計画の作成と内容の取扱い」のうち、各分野の履修に関する記述の一部である。文中の（ア）～（ウ）に入る数字の適切な組合せを、①～⑤から選び、番号で答えよ。

第3 指導計画の作成と内容の取扱い

1 指導計画の作成に当たっては、次の事項に配慮するものとする。

(3) 各分野の履修については、第1, 第2学年を通じて地理的分野及び歴史的分野を並行して学習させることを原則とし、第3学年において歴史的分野及び公民的分野を学習させること。各分野に相当する授業時数は、地理的分野（ア）単位時間、歴史的分野（イ）単位時間、公民的分野（ウ）単位時間とすること。これらの点に留意し、各学校で創意工夫して適切な指導計画を作成すること。

	(ア)	(イ)	(ウ)
①	120	130	100
②	115	135	100
③	115	135	85
④	105	105	140
⑤	140	140	105

(2) 中学校学習指導要領（平成29年3月告示 文部科学省）の「第2節 社会」について、次の文は「第2 各分野の目標及び内容」のうち、公的分野の「B 私たちと経済」の「(2) 国民の生活と政府の役割」の一部である。文中の(ア)～(ウ)に入る語句の適切な組合せを、①～⑤から選び、番号で答えよ。

B 私たちと経済

(2) 国民の生活と政府の役割

対立と合意、効率と公正、(ア)、(イ)などに着目して、課題を追究したり(ウ)したりする活動を通して、次の事項を身に付けることができるよう指導する。

	(ア)	(イ)	(ウ)
①	協調	持続可能性	解決
②	協調	持続可能性	探究
③	個人の尊重と法の支配	民主主義	表現
④	分業と交換	希少性	表現
⑤	分業と交換	希少性	解決

- (3) 高等学校学習指導要領（平成30年3月告示 文部科学省）の「第3節 公民」について、次の文は「第1款 目標」の一部である。文中の（ア）～（ウ）に入る語句の適切な組合せを、①～⑤から選び、番号で答えよ。

社会的な見方・考え方を働かせ、現代の諸課題を追究したり解決したりする活動を通して、広い視野に立ち、グローバル化する国際社会に主体的に生きる平和で民主的な国家及び社会の有為な形成者に必要な公民としての（ア）を次のとおり育成することを目指す。

(1)（イ）の手掛かりとなる概念や理論及び倫理、政治、経済などに関わる現代の諸課題について理解するとともに、諸資料から様々な情報を適切かつ効果的に調べまとめる技能を身に付けるようにする。

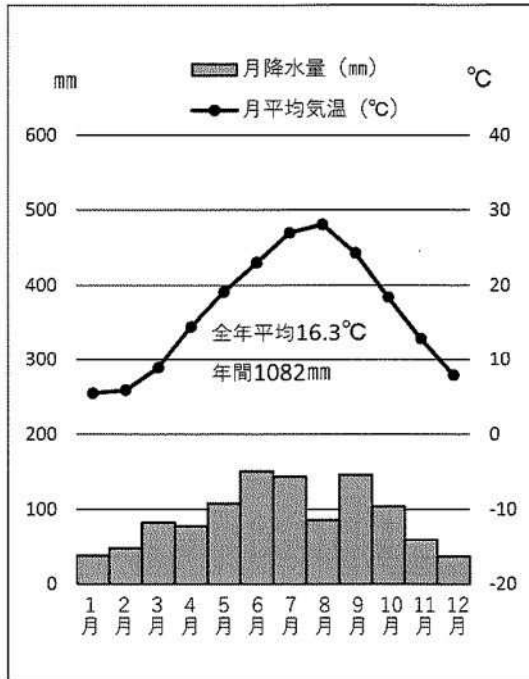
(2) 現代の諸課題について、事実を基に概念などを活用して多面的・多角的に考察したり、解決に向けて公正に判断したりする力や、合意形成や社会参画を視野に入れながら（ウ）したことを議論する力を養う。

（以下略）

	（ア）	（イ）	（ウ）
①	資質	構想	選択・判断
②	資質	選択・判断	探究
③	資質・能力	構想	選択・判断
④	資質・能力	選択・判断	構想
⑤	資質・能力	考察	構想

【3】 地理に関する次の問いに答えよ。

(1) 次の雨温図の地点として適切なものを地図の地点①～⑤から選び、番号で答えよ。



雨温図



地図

7

(2) 次の図は、中国、日本、タイ、インドネシア、オーストラリアにおける就農率と1haあたりの穀物生産量を示している。日本のグラフとして最も適切なものを①～⑤から選び、番号で答えよ。

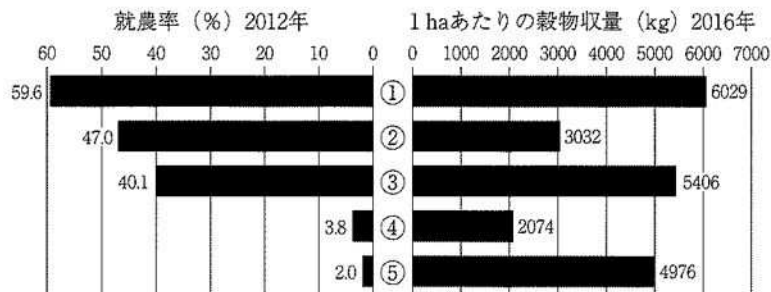


図 就農率と穀物単位収量

8



(3) 次の図は石炭の埋蔵量、輸出量、生産量を示したものである。☆印のついた部分を占める国として適切なものを①～⑤から選び、番号で答えよ。

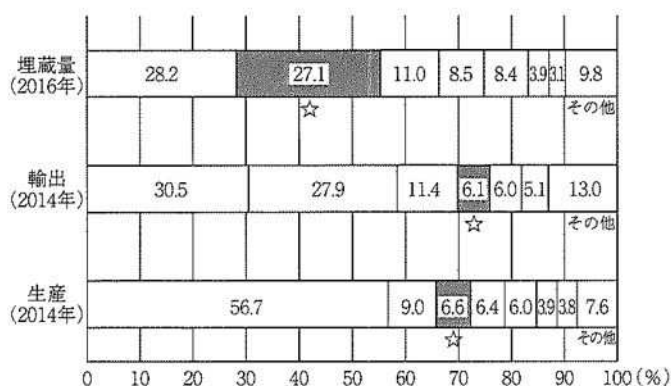


図 石炭の埋蔵量、輸出量、生産量

(BP Statistical Review of World Energy 2017、ほか) より

- ① 中国    ② インド    ③ ロシア    ④ オーストラリア    ⑤ アメリカ

9

(4) 次の図は工業の種類と技術集約度および資本集約度との関係を示したものである。図中のA、B、Cと工業タイプの関係の適切な組合せを①～⑤から選び、番号で答えよ。

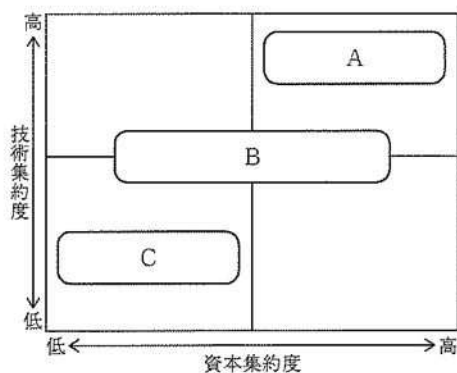


図 工業の種類と技術集約度および資本集約度との関係

	A	B	C
①	軽工業	先端技術工業	重化学工業
②	重化学工業	軽工業	先端技術工業
③	先端技術工業	重化学工業	軽工業
④	重化学工業	先端技術工業	軽工業
⑤	先端技術工業	軽工業	重化学工業

10

(5) 次の記述A～Cは、ヨーロッパの鉱工業に関する説明である。それぞれの説明文と、国または地域の適切な組合せを①～⑤から選び、番号で答えよ。

- A 豊富な森林資源に恵まれるため、伝統的に製紙パルプ工業が発達。近年は通信技術の産業もさかん。  
 B 一時は世界の工場と呼ばれたが、第二次世界大戦後は経済が停滞した。北海油田の開発や先端技術産業の誘致で経済が立ち直る。  
 C ヨーロッパ最大の工業国。炭田と水運で発達したルール工業地域が柱。自動車や医薬品、先端技術産業などの先進国。

	A	B	C
①	北欧諸国	ドイツ	フランス
②	ドイツ	ベネルクス3国	イギリス
③	フランス	北欧諸国	ドイツ
④	北欧諸国	イギリス	ドイツ
⑤	ドイツ	イタリア	フランス

11

(6) 次の工業都市とその都市における主な製品との組合せとして適切でないものを①～⑤から選び、番号で答えよ。

- ① 伝統産業：小千谷  
 ② 自動車：豊田  
 ③ 造船：長崎  
 ④ 綿工業：福井  
 ⑤ 製紙：苫小牧

12

(7) 次の図は、小売業の業態による立地環境別の事業所数の割合を示したものである。グラフA～Cと小売業の業態の適切な組合せを①～⑤から選び、番号で答えよ。

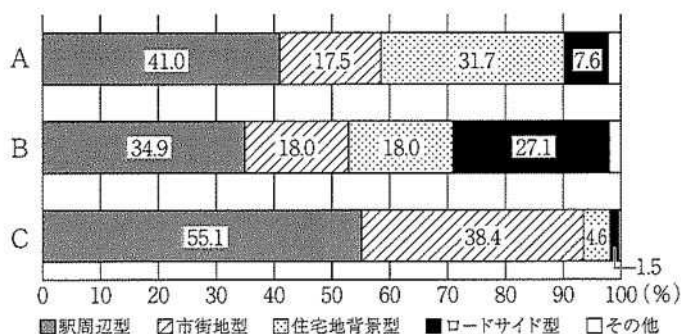


図 小売業の業態による立地環境別事業所数割合

	A	B	C
①	総合スーパー	コンビニエンスストア	百貨店
②	百貨店	総合スーパー	コンビニエンスストア
③	コンビニエンスストア	百貨店	総合スーパー
④	百貨店	コンビニエンスストア	総合スーパー
⑤	コンビニエンスストア	総合スーパー	百貨店

13

(8) 次の記述中の空欄A～Cに当てはまる数字および言葉の適切な組合せを①～④から選び、番号で答えよ。

地球が養える人口を可容人口といい、約60億から約160億と算出されている。基本的な考え方としては、地表で生産される食料の総量を1人あたりの  で割って求める。単位面積当たりで養える人口数を人口支持力というが、人口支持力が高ければ可容人口は  なり、生活水準が向上し  が増えれば可容人口は  なる。

	A	B	C
①	生産量	大きく	小さく
②	需要量	小さく	大きく
③	需要量	大きく	小さく
④	生産量	小さく	大きく

14

(9) 国連環境計画 (UNEP) が、1985年に採択し1988年に発効した条約で、オゾン層を破壊する物質を特定しその生産や消費を規制することを狙いとした条約として適切なものを①～⑤から選び、番号で答えよ。

- ① ウィーン条約    ② パリ協定    ③ バーゼル条約    ④ ワシントン条約  
⑤ ラムサール条約

15

(10) 次の説明文が示す言葉として適切なものを①～⑤から選び、番号で答えよ。

単位面積当たりの肥料や労働力の投下量が少なく、収穫量や土地利用率低い農業。原始的農業や新大陸の企業的穀物農業がこれにあたる。

- ① 単一耕作    ② スマートアグリ    ③ 集約的農業    ④ 粗放的農業    ⑤ 商業的農業

16

(11) 国連によって所得水準が低いこと、人的資源が乏しいこと、経済的に脆弱であることの3つの基準で定められた発展途上国の中でも最も開発が進んでいない国の総称の欧文略号として適切なものを①～⑤から選び、番号で答えよ。

- ① OIC    ② CIS    ③ NEPAD    ④ WTO    ⑤ LDC

17

(12) 2016年における小麦の生産量上位3カ国の適切な組合せを①～⑤から選び、番号で答えよ。

- |              |            |          |
|--------------|------------|----------|
| ① 1位：中国      | 2位：アメリカ合衆国 | 3位：カナダ   |
| ② 1位：アメリカ合衆国 | 2位：ロシア     | 3位：インド   |
| ③ 1位：ロシア     | 2位：中国      | 3位：パキスタン |
| ④ 1位：中国      | 2位：インド     | 3位：ロシア   |
| ⑤ 1位：ロシア     | 2位：オーストラリア | 3位：インド   |

18

(13) 次の説明文が示す宗教として適切なものを①～⑤から選び、番号で答えよ。

インド最大の信徒を持つ民族宗教。バラモン教にインド古来の宗教などを取り入れて、5世紀頃までに宗教として確立した。インド人の行動の規範となる伝統的な制度や慣習の基盤となり、カースト制度との結びつきが強い。

- ① 仏教    ② イスラム教    ③ ヒンドゥー教    ④ 道教    ⑤ 儒教

19

(14) 次のA～Cは、2017年における世界の再生可能エネルギー発電設備容量の世界合計に対する割合の上位3カ国を示したものである。A～Cが示す再生可能エネルギーの適切な組合せを①～⑤から選び、番号で答えよ。

- A 1位：アメリカ    2位：フィリピン    3位：インドネシア  
 B 1位：中国    2位：アメリカ    3位：日本  
 C 1位：中国    2位：アメリカ    3位：ドイツ

	A	B	C
①	バイオマス	太陽光	風力
②	太陽光	風力	バイオマス
③	地熱	太陽光	風力
④	地熱	風力	太陽光
⑤	風力	太陽光	地熱

20

(15) 大都市の都心部で住宅環境が悪化し、夜間人口が減って近隣関係などが崩れ、行政区の存立が危うくなるような地域が生まれ、その地域の治安・衛生環境が悪化するような状況を示す言葉として適切なものを①～⑤から選び、番号で答えよ。

- ① インフォーマルセクター    ② コンパクトシティー    ③ スプロール現象  
 ④ インナーシティ問題    ⑤ ジェントリフィケーション

21

(16) 2015年におけるプラチナの産出量の最も多い国として適切なものを①～⑤から選び、番号で答えよ。

- ① 南アフリカ共和国    ② アメリカ合衆国    ③ ロシア連邦  
 ④ ジンバブエ    ⑤ カナダ

22

【4】日本の歴史に関する次の問いに答えよ。

(1) 更新世の日本に関する記述として適切なものを①～④から選び、番号で答えよ。

- ① この時代に氷河がとけて海水面が上昇し、地殻の変動も加わって、海によって大陸からへだてられた日本列島が形成された。
- ② 人々は、打製石器を使い、粗大な握槌などから、次第に用途に応じてナイフ形石器、突き刺すための尖頭器、石鏃などがつくられるようになった。
- ③ この時代の化石人骨として、港川人や浜北人などが知られているが、いずれも化石人類の研究では、旧人段階のものとされている。
- ④ 1946年、相沢忠洋は、群馬県の関東ローム層の赤土の中から打製石器を発見した。現在では、日本列島の旧石器時代の遺跡は、約5,000カ所にのぼっている。

23

(2) 次の史料に関する記述として適切なものを①～④から選び、番号で答えよ。

……詔して曰く、「聞くならく、墾田は養老七年の格に依りて、限満つる後、例に依りて収授す。是に由りて農夫怠倦して、開きたる地復た荒る、と。今より以後は、任に私財と為し、三世一身を論ずること無く、咸悉くに永年取ること莫れ。其の親王の一品及び一位は五百町、二品及び二位は四百町、……初位已下庶人に至るまでは十町、但し郡司には大領・少領に三十町、……」と。

- ① 「養老七年の格」では、収公の期限が設定されていたが、土地に愛着を持った農民らは、期限が近づいても、開墾した土地を積極的に耕している様子が見える。
- ② この法令により、身分に応じた制限もなく、開墾した田地の私有が認められ、いつまでも収公しないこととされた。
- ③ この法令を契機として初期荘園が形成されたが、11世紀半ばには、開発領主が所領を有力者に寄進して、自らは荘官として実質的に支配する寄進地系荘園が各地に広まった。
- ④ この法令が出された時期に、道鏡は、太政大臣・禅師、さらに法王になって権力を握り、仏教政治を行った。

24

(3) 11世紀の社会の状況について述べた記述として適切でないものを①～④から選び、番号で答えよ。

- ① 上総で平忠常の乱が起こり、源頼信がそれを鎮圧し、源氏の東国進出のきっかけをつくった。
- ② 源信が、念仏による極楽往生の方法を示した『往生要集』を著した。
- ③ 源頼義とその子義家は、陸奥の豪族安倍氏と戦い、出羽の豪族清原氏の助けを得て安倍氏を滅ぼした。
- ④ 後三条天皇は延久の荘園整理令を出し、記録荘園券契所を設置して、年代の新しい荘園や書類不備のものなど、基準にあわない荘園を停止した。

25

(4) 承久の乱に関連して述べた記述として適切でないものを①～④から選び、番号で答えよ。

- ① 承久の乱は、1219（承久元）年に將軍実朝が、甥の公暁に暗殺された事件をきっかけとして、朝幕関係が不安定となったことが背景となっている。
- ② 後鳥羽上皇による北条義時追討の軍事行動は、幕府御家人を動揺させたが、東国武士の大多数が北条氏のもとに結集し、幕府側が圧勝した。
- ③ 乱の後、幕府は朝廷の政治にも干渉するようになり、院政を廃止したほか、摂政・関白も否定して、幕府の権勢を高めた。
- ④ 幕府は乱後に六波羅探題において朝廷の監視や西国の統括にあたらせたほか、上皇方についた貴族や武士の所領3,000余カ所を没収し、東国武士らを地頭職に任じた。

26

(5) 室町幕府と守護大名に関わる事柄について述べた記述ア～エについて、正しいものの組合せを①～④から選び、番号で答えよ。

- ア 幕府が守護に一国内の荘園や公領の年貢の半分を徴収する権限を認めた半済令は、守護の権限強化を目的として当初から全国的に、かつ永続的なものとして適用された。
- イ 足利義満は明徳の乱で11カ国の守護を兼ね、六分の一衆とされた山名氏一族の内紛に介入して、山名氏清らを滅ぼした。
- ウ 応仁の乱後、幕府の実権は管領の細川氏に移り、16世紀に入ると細川氏の家臣の三好氏、さらにその家臣の松永氏へと移り変わり、幕府は有名無実の存在となった。
- エ 足利義教による有力守護の弾圧が続く中で、摂津国守護の赤松満祐が嘉吉の変を起こし、義教を殺害したことから、將軍の権威は大きくゆらいでいった。

- ① ア・ウ    ② イ・ウ    ③ イ・エ    ④ ア・エ

27

(6) 享保の改革の一つとして、ある行為の見返りに参勤交代における江戸在府期間を1年から半年にする政策がある。その政策を示す史料として適切なものを①～④から選び、番号で答えよ。

- ① 万石以上の面々より八木差し上げ候様ニ仰せ付けらるべしと思召し、左候ハねば御家人の内数百人、御扶持召放さるべきより外は之無く候故、御恥辱を顧みられず仰せ出され候。高巻（一）万石ニ付八木百石積り差上げらるべく候。
- ② 菱垣廻船積問屋共より是迄年々冥加上納金致し来り候処、問屋共不正の趣も相聞え候ニ付、以来上納ニ及ばず候。尤、向後右仲間株札ハ勿論、此外共都て問屋仲間并組合杯と唱候儀ハ、相成らず候…。
- ③ 近年金銀出入段々多く成り、評定所寄合の節も此儀を専ら取扱い、公事訴訟ハ末に罷成、評定の本旨を失ひ候。借金銀・買懸り等の儀ハ、人々相對の上の事ニ候得ば、自今は三奉行所にて濟口の取扱い致す間敷候。
- ④ 此度御蔵米取御旗本・御家人勝手向御救のため、蔵宿借金仕法御改正仰せ出され候事。  
一 旧来の借金は勿論、六ヶ年以前辰年までニ借請候金子は、古借・新借の差別無く、棄捐の積り相心得べき事。

28

(7) 次のア～エは江戸時代の外交関連の出来事である。ア～エを起こった順に並べたものとして適切なものを①～④から選び、番号で答えよ。

- ア ロシア使節ラクスマンが漂流民の大黒屋光太夫を伴って根室に来航し、幕府に通商を求めた。  
イ イギリスの軍艦フェートン号が長崎に侵入し、薪水・食糧を強要し退去する事件が起こった。  
ウ ロシア使節レザノフが長崎に来航し通商を求めたが、拒絶されたことから樺太や択捉島を攻撃して帰国した。  
エ 幕府は近藤重蔵・最上徳内らに択捉島を探查させ、「大日本恵登呂府」の標柱を立てさせた。

- ① ア→エ→イ→ウ    ② エ→ア→ウ→イ    ③ エ→ア→イ→ウ    ④ ア→エ→ウ→イ

29



(8) 江戸時代の思想家について説明した記述のうち適切でないものを①～⑤から選び、番号で答えよ。

- ① 伊藤仁斎は、誠こそが道德の根本でなければならぬと説き、それを「真実無偽」、すなわち「私(わたくし)」心のない心情の純粹さと理解した。
- ② 林羅山は、人倫にも上下や分(身分・職分)の定まった理としての「上下定分の理」があると説いた。
- ③ 荻生徂徠は、古文辞学の方法を主張し、人々が礼楽刑政の道に従って生きるならば世の中は治まるようにできると説いた。
- ④ 本居宣長は、自らの商人としての体験をふまえ、独自の処世哲学である心学(石門心学)を創始、商人は商人の道を正しく行う事を主張した。
- ⑤ 安藤昌益は、すべての人が直接田を耕して生活する(万人直耕)をする平等社会である自然世を理想とした。

30

(9) 明治時代に発刊された新聞・雑誌について述べた記述ア～エについて、その名称の適切な組合せを①～④から選び、番号で答えよ。

- ア 北村透谷の評論・島崎藤村の詩などを載せ、ロマン主義の文芸思潮を導入した。
- イ 平民的欧化主義をとらえた徳富蘇峰を中心とした民友社が発刊した。
- ウ 森有礼・福沢諭吉・西周らの洋学者が組織した団体の機関誌で、啓蒙思想の紹介と宣伝に貢献した。
- エ 幸徳秋水・堺利彦らが結成した団体が発刊し、社会主義の紹介や日露反戦論を展開した。

- ① ア 白樺      イ 日本人      ウ 西洋事情      エ 万朝報
- ② ア 文学界      イ 国民之友      ウ 西洋事情      エ 平民新聞
- ③ ア 白樺      イ 日本人      ウ 明六雑誌      エ 万朝報
- ④ ア 文学界      イ 国民之友      ウ 明六雑誌      エ 平民新聞

31

(10) 第一次世界大戦後の大戦景気の状況について述べた記述として適切でないものを①～④から選び、番号で答えよ。

- ① 水力発電が発達し、猪苗代から東京への長距離送電に成功した。
- ② ドイツからの輸入が途絶えたため、薬品・染料・肥料などの化学産業が発達した。
- ③ アジア市場には綿織物などをアメリカ市場には生糸などを輸出し、貿易は大幅な輸出超過となった。
- ④ 工業の躍進は見られたが、工業生産額は農業生産額を上回ることはなかった。

32

(11) 次の史料の法律が制定される以前の出来事として適切なものを①～④から選び、番号で答えよ。

第四条 政府ハ戦時ニ際シ国家総動員上必要アルトキハ、勅令ノ定ムル所ニ依リ、帝国臣民ヲ徴用シテ総動員業務ニ従事セシムルコトを得

- ① 政党が解散され、新たに大政翼賛会が結成された。
- ② 北京郊外の盧溝橋付近で日中両国軍の衝突事件が発生した。
- ③ ドイツ・イタリアとの間で日独伊三国同盟を締結した。
- ④ アメリカから日米通商航海条約の廃棄が通告された。

33

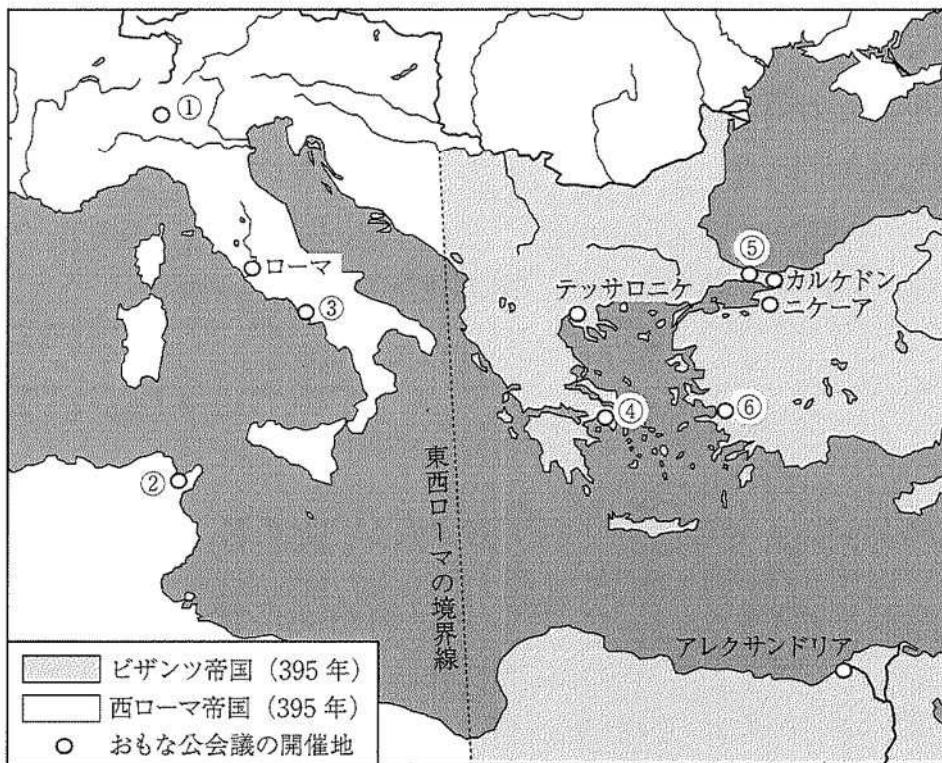
【5】世界の歴史に関する次の問いに答えよ。

(1) 古代ローマ文化に関する記述として適切なものを①～④から選び、番号で答えよ。

- ① ストラボンの『ゲルマニア』は当時のゲルマン人社会が描かれている。
- ② プルタルコス『対比列伝』や『倫理論集』などの作品を残した。
- ③ ホラティウスは、ホメロスの影響を受けローマ建国叙事詩『アエネイス』を著した。
- ④ 三頭政治を担ったオクタウィアヌスは『自省録』と呼ばれる書物を残した。

34

(2) コンスタンティヌス帝がキリスト教を帝国統治の宗教的基盤とするためにキリスト教を公認する勅令を出した公会議が行われた場所として適切なものを①～⑥から選び、番号で答えよ。



35

(3) 隋・唐・宋に関する記述として適切なものを①～④から選び、番号で答えよ。

- ① 北朝からでた隋の楊堅が再び全国を統一することに成功した。
- ② 隋の玄宗は、華北と江南を結ぶ経済の大動脈として大運河を完成させた。
- ③ 隋の武将であった太宗が帝国につき、長安を都として唐を建てた。
- ④ 節度使出身の司馬光が宋を建て、五代の争乱を終わらせた。

36

(4) イスラム世界に関する記述として適切なものを①～④から選び、番号で答えよ。

- ① ブワイフ朝の軍を率いバグダードに入ったトゥグリル＝ベクはスルタンの称号を得た。
- ② チンギス＝ハンの率いる軍は、イラン高原でキプチャク＝ハン国を建てた。
- ③ ファーティマ朝の宰相サラーフ＝アッディーンは、アイユーブ朝を建てた。
- ④ 北アフリカでは、西サハラのパルメル人が11世紀にマムルーク朝を建てた。

37

(5) 中世ヨーロッパに関する記述として適切なものを①～④から選び、番号で答えよ。

- ① イングランドでボニファティウス8世は三部会を招集し、広く支持を集めた。
- ② ヴァロワ朝が断絶したフランスではカペー朝のフィリップ6世が王位を継承した。
- ③ フランス王エドワード3世はボルドーを奪回して百年戦争を終結させた。
- ④ イングランドで王位継承をめぐりランカスター家とヨーク家の間で、ばら戦争が起こった。

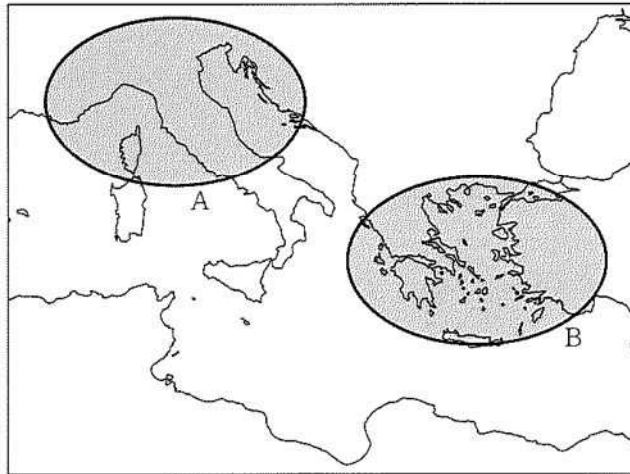
38

(6) 次のルネサンスに関する説明を読み、空欄の(ア)～(エ)に当てはまる語句の適切な組合せを①～⑥から選び、番号で答えよ。

ルネサンスの口火を切ったのは地図中の(ア)地域から広がっていったもので、その後、ヨーロッパ各地に広がることになった。ルネサンスとは「再生」を意味する言葉であり、具体的にはギリシアやローマ文化の再興を意味している。これらの運動は一般的に(イ)と呼ばれている。

宗教領域で影響力をもった人物は(ウ)であり、彼は『愚神礼讃』を著して教会の形式化や僧侶の腐敗を風刺した。また、(ウ)と交流のあった(エ)は、『ユートピア』を表し、現実社会の在り方を批判。私有財産制のない理想郷を描いた。

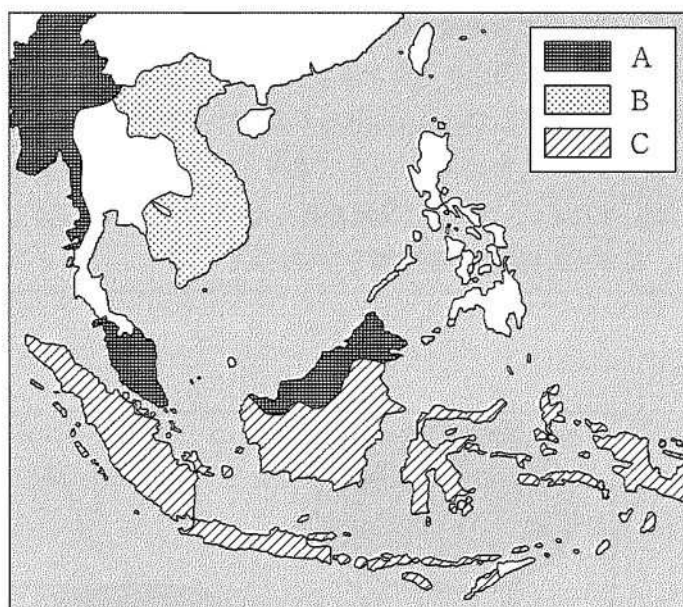
【地図】



	(ア)	(イ)	(ウ)	(エ)
①	A	人文主義(ヒューマニズム)	エラスムス	トマス・モア
②	A	多文化主義	ピコ・デラ・ミランドラ	マキャベリ
③	B	人文主義(ヒューマニズム)	ピコ・デラ・ミランドラ	マキャベリ
④	B	人文主義(ヒューマニズム)	エラスムス	マキャベリ
⑤	B	多文化主義	エラスムス	トマス・モア
⑥	A	人文主義(ヒューマニズム)	ピコ・デラ・ミランドラ	トマス・モア

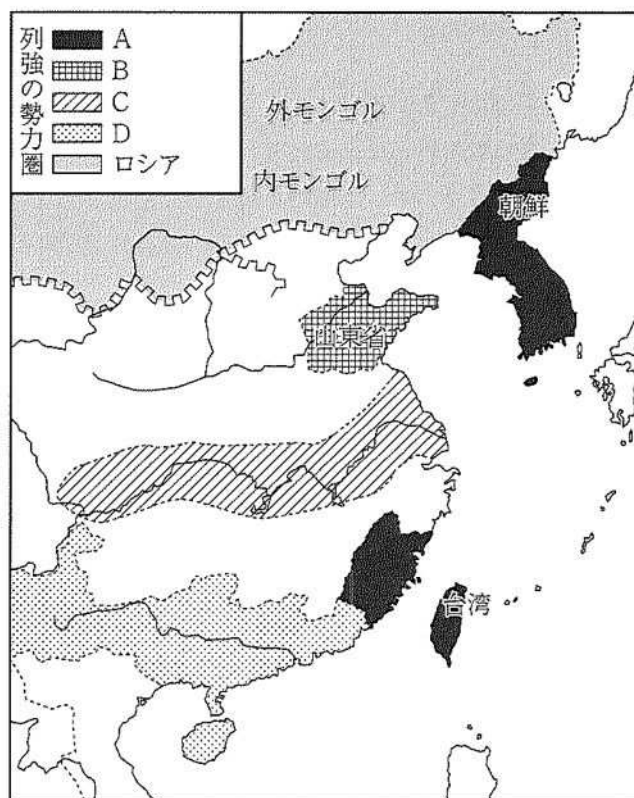
39

(7) 下の地図は19世紀の東南アジアの植民地化を示したものである。地図中のA～Cが示す植民地の適切な組合せを、①～⑤から選び、番号で答えよ。



- |   |         |         |         |
|---|---------|---------|---------|
| ① | A フランス領 | B オランダ領 | C イギリス領 |
| ② | A フランス領 | B イギリス領 | C オランダ領 |
| ③ | A オランダ領 | B フランス領 | C イギリス領 |
| ④ | A イギリス領 | B フランス領 | C オランダ領 |
| ⑤ | A イギリス領 | B オランダ領 | C フランス領 |

(8) 下の地図は20世紀初めの列強による中国侵略を示したものである。地図中のA～Dが示すものの適切な組合せを①～⑤から選び、番号で答えよ。



- ① A 日本      B フランス      C ドイツ      D イギリス
- ② A 日本      B ドイツ      C イギリス      D フランス
- ③ A 日本      B イギリス      C フランス      D ドイツ
- ④ A ドイツ      B 日本      C イギリス      D フランス
- ⑤ A ドイツ      B 日本      C フランス      D イギリス

41

(9) 第二次世界大戦後の世界に関する記述として適切なものを①～④から選び、番号で答えよ。

- ① 毛沢東は紅衛兵を動員して反毛沢東派を罷免・追放・殺害し、中国は大混乱に陥った。
- ② プレジネフは非スターリン派のナジ政権が誕生したハンガリーに軍事介入した。
- ③ インドネシアではポル＝ポトが指導するクメール＝ルージュが反対派の大虐殺を進めた。
- ④ 韓国では軍事政権が続いていたが、文民政権である李登輝政権が誕生し民主化した。

42

【6】 政治・経済に関する次の問いに答えよ。

(1) 日本を含む各国の統治機構について述べた記述のうち、適切でないものを①～⑤から選び、番号で答えよ。

- ① 日本の首相は国会で指名を受けた者が天皇によって任命され、2020年1月現在、安倍晋三首相が歴代の総理経験者の中で首相在職日数1位となっている。
- ② アメリカ合衆国の大統領は任期4年で、三選禁止が憲法で定められている。
- ③ イギリスの立法機関は上院・下院の2院から構成され、議員の選出については上下院とも小選挙区制による選挙にて選出される。
- ④ 中国では全国人民代表大会が憲法改正や法律の制定、国家主席や國務院総理などの任免を行う。
- ⑤ フランスの首相は議会に対して責任を負い、国会から不信任決議を受けることもあるため、大統領と首相の所属政党が違う状況が生じる可能性もある。

43

(2) 日本の国会改革について述べた次の記述のうち、(ア)～(ウ)に当てはまる語句の適切な組合せを①～⑤から選び、番号で答えよ。

1999年に官僚主導から政治家主導の政治を目指して、国会審議活性化法が成立した。この法律により政府委員制度が廃止され、副大臣や(ア)が導入された。また、国会審議活性化法により、(イ)委員会が常任委員会として衆参両院に設置された。この場所では、野党党首と首相による(ウ)が行われている。

	(ア)	(イ)	(ウ)
①	政務次官	総務	クエスチョン・タイム
②	政務次官	国家基本政策	総括質疑
③	政務官	総務	クエスチョン・タイム
④	政務官	国家基本政策	クエスチョン・タイム
⑤	政務官	総務	総括質疑

44



(3) 日本国内においてインフレ下における合理的行動の適切な組合せを①～⑤から選び、番号で答えよ。

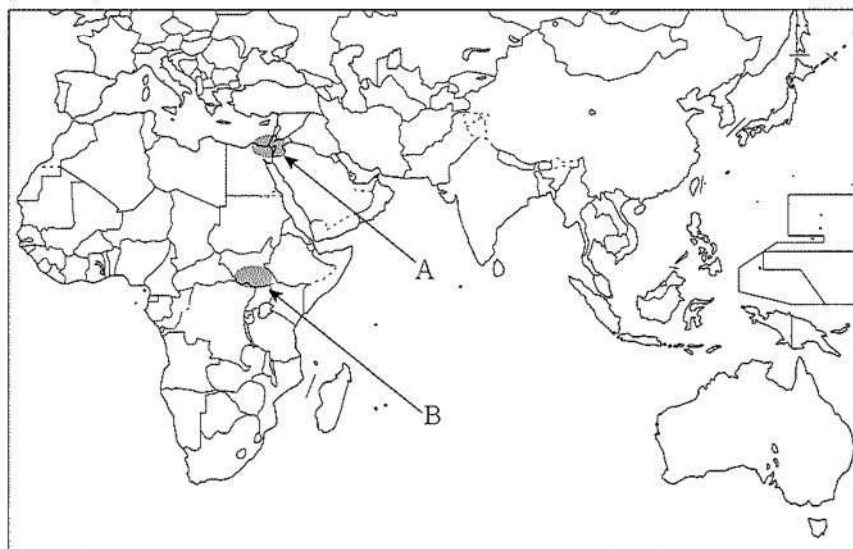
- ア 固定金利型国債は名目金利が不変であるため、日本人が個人向け国債を購入すること
- イ 借金の返済が容易になるので、日本人が債務（借金）を抱えること
- ウ 現物の価格上昇を見込めるので、日本人が土地や建物購入などへの投資を行うこと
- エ 日本国内の金利が高い傾向にあるため、外国人が日本への投資を行うこと

- ① アとイ    ② アとウ    ③ アとエ    ④ イとウ    ⑤ イとエ

45

(4) 2020年1月現在、日本が派遣している国連PKOの場所を略地図上の位置A・Bのうちから選び、場所とその名称の適切な組合せを下の①～⑥から選び、番号で答えよ。(位置についてはおおよその場所を示している。PKO名称については外務省ホームページより。)

【略地図】



	位置	名称
①	A	国連南スーダン共和国ミッション
②	A	国連休戦監視機構
③	A	国連兵力引き離し監視隊
④	B	国連南スーダン共和国ミッション
⑤	B	国連兵力引き離し監視隊
⑥	B	国連休戦監視機構

46

(5) 地方公共団体について次の条文を読んだ上で、適切でないものを①～⑤から選び、番号で答えよ。

【日本国憲法】

第92条

地方公共団体の組織及び運営に関する事項は、地方自治の本旨に基いて、法律でこれを定める。

第93条

地方公共団体には、法律の定めるところにより、その議事機関として議会を設置する。

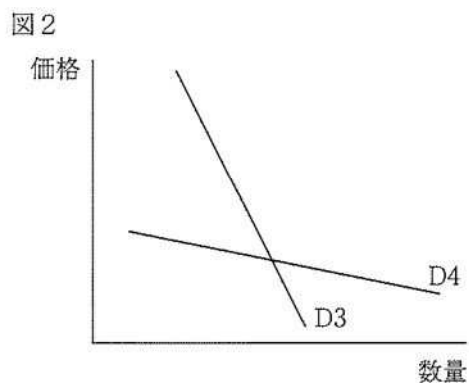
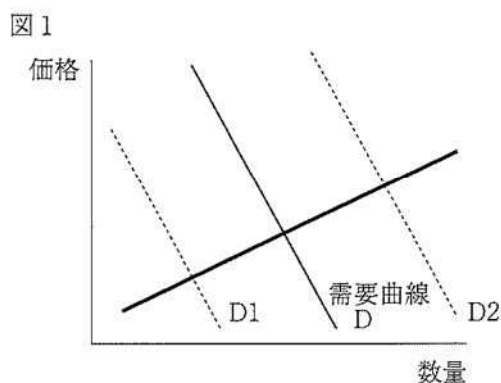
2 地方公共団体の長、その議会の議員及び法律の定めるその他の吏員は、その地方公共団体の住民が、直接これを選挙する。

- ① 地方公共団体の長には、権限に属する事務について規則制定権を有するほか、議会に対する拒否権が認められている。
- ② 地方議会の権限として、条例を自主的に制定する権限のほか、執行機関の事務に関する説明請求権・調査権が認められている。
- ③ 地方公共団体の統治システムはアメリカ型に近いといわれているが、議会は長の不信任権限をもち、議会は長の不信任決議権をもつ。
- ④ 最高裁判所は公職選挙法等を改正して定住外国人等に地方の選挙権を付与しても、憲法違反にはならないとしている。
- ⑤ 明治憲法下においては、都道長官・府県知事及び市長については、住民による直接選挙によって選出される仕組みであった。

(6) 需要・供給曲線に関して次の記述中の(ア)～(ウ)に当てはまる語句の適切な組合せを①～⑤から選び、番号で答えよ。

供給者と需要者が多数存在し、互いに競争関係にある完全競争市場において、供給量が需要量を上回ると供給超過・需要不足の状態が起こり、価格は下落する。一方で、需要量が供給量を上回ると、価格は上昇する。このように、価格は上昇と下落を繰り返しながら、取引量が一致する(ア)価格となる。

需要者の所得水準が下落すると図1において、需要曲線Dは(イ)へ移動する。商品の性質によって需要曲線の傾きが異なり、図2では、D3に比べてD4の需要曲線は(ウ)のような商品であり、価格変動の影響を受けやすいとされている。



	(ア)	(イ)	(ウ)
①	市場	D 1	ヨットや宝石
②	市場	D 2	ヨットや宝石
③	市場	D 2	食料品
④	管理	D 1	食料品
⑤	管理	D 2	食料品

(7) 次の図A・Bのラベルに関する記述として適切な組合せを①～④から選び、番号で答えよ。

著作権保護の観点により、  
掲載いたしません。

ア Aはイスラムの教えで「許されている」という意味のアラビア語が書かれており、イスラムの戒律に則って調理・製造された商品であることを証明するハラル（ハラール）認証ラベルとして使用されることがある。

イ Aはイスラム教の教えで「ラマダン」という意味のアラビア語が書かれており、イスラムの戒律に則って、断食中でも飲食しても良い商品であることを証明するラベルとして使用されることがある。

ウ Bは発展途上国の原料や製品を適正な価格で購入することを通じ、立場が弱い発展途上国の生産者や生活改善と自立を支援する運動の基準を守った製品に使用されるラベルである。

エ Bは国内産業を保護するために保護貿易が行われた結果、国どうしが対抗措置をとり合い、貿易摩擦が生じることを防ぐための運動の基準を守った製品に使用されるラベルである。

- ① ア・ウ      ② イ・ウ      ③ イ・エ      ④ ア・エ

49

(8) 次の文の説明として適切なものを①～④から選び、番号で答えよ。

より良い社会に向けた、人や社会、環境に配慮した買い物で社会に貢献すること。例えば、環境への配慮としてエコ商品を、地域への配慮として地元の産品を、人への配慮として障がいのある人の支援につながる商品を購入することなど、いろいろな方法がある。

- ① 消費者主権  
② ノーマライゼーション  
③ フィランソロピー  
④ エシカル消費

50

(9) 株式会社の仕組みに関する内容として適切でないものを①～④から選び、番号で答えよ。

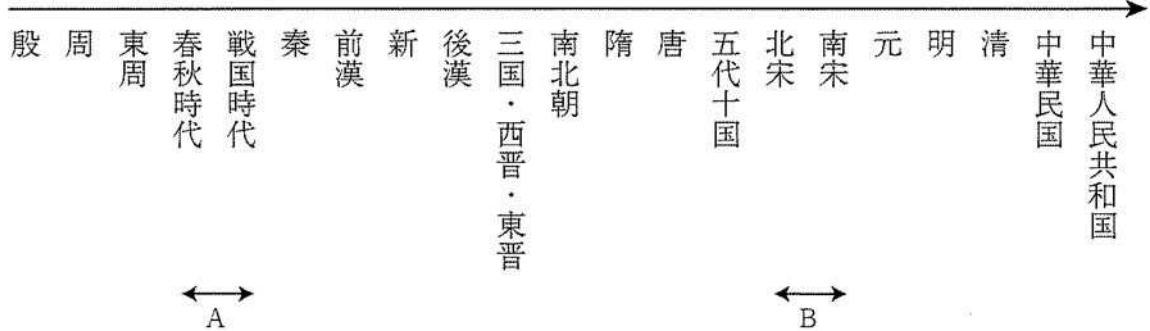
- ① 株主の責任は、自分の出資額をこえることはない、有限責任制になっている。
- ② 証券取引所で売買されている株式については、2009年から紙による株券は廃止され、電子的な管理に統一されている。
- ③ 株式会社は、ステークホルダーに対して、利益を確保するために努力する責任を負っている。
- ④ 株式会社の設立の際には、1,000万円以上の資本金が必要である。

【7】倫理に関する次の問いに答えよ。

(1) 中国思想について、諸子百家が登場した時代を次の年表中のA・Bの中から選び、その時代の道家の思想の説明として、適切な組合せを①～⑤から選び、番号で答えよ。

【年表】

中国の歴代王朝・国家名



	時代	道家の思想
①	A	宇宙の根本原理に立って、社会や国家の束縛を離れた素朴で自然な姿に、人間の本来の在り方をもとめる。
②	A	本来利己的である人間を治めるためには、単なる心構えに過ぎないような道徳性ではなく、一律に法によるべきだと説いた。
③	A	君臣上下の別なく農耕に従事することを説いて、勤労による天下平等を主張した。
④	B	宇宙の根本原理に立って、社会や国家の束縛を離れた素朴で自然な姿に、人間の本来の在り方をもとめる。
⑤	B	本来利己的である人間を治めるためには、単なる心構えに過ぎないような道徳性ではなく、一律に法によるべきだと説いた。

52

(2) 防衛機制について、精神分析の創始者である人物と防衛機制の一つである投射の記述として適切な組合せを①～⑤から選び、番号で答えよ。

	精神分析の創始者	投射の記述
①	フロイト	欲求を無意識のうちに抑えこむ
②	フロイト	自分自身の気づいていない欲求や感情を他人の中に見る
③	フロイト	社会的に価値ある行動に向かう
④	ユング	欲求を無意識のうちに抑えこむ
⑤	ユング	自分自身の気づいていない欲求や感情を他人の中に見る

53

(3) 次の記述は功利主義について、ある哲学者が記した著書の一部である。この本の著者と分類、考え方を表した言葉として、適切な組合せを①～⑤から選び、番号で答えよ。

著作権保護の観点により、  
掲載いたしません。

	著者	分類	考え方を表した言葉
①	ベンサム	量的功利主義	最大多数の最大幸福
②	ベンサム	質的功利主義	多数者の専制
③	ミル	量的功利主義	最大多数の最大幸福
④	ミル	質的功利主義	多数者の専制
⑤	トックヴィル	量的功利主義	最大多数の最大幸福

(4) 次のAとBの記述は、ある本の一部である。AとBの作者の適切な組合せを①～⑤から選び、番号で答えよ。

著作権保護の観点により、  
掲載いたしません。

	A	B
①	平塚らいてう	森鷗外
②	平塚らいてう	志賀直哉
③	与謝野晶子	夏目漱石
④	与謝野晶子	森鷗外
⑤	与謝野晶子	志賀直哉



(5) 次の記述は哲学者ハンナ・アーレントに関する記述である。空欄 (ア) ~ (ウ) に当てはまる語句の適切な組合せを①~⑤から選び、番号で答えよ。

ドイツ生まれの哲学者であるハンナ・アーレントは、人間だけがことばと行為によって他者と自分の差異を表明し、伝えることができると述べた。これを彼女は活動とよんだ。生命過程に必要なものをつくる (ア) とも、耐久性のある有用な人工物をつくる (イ) とも異なり、活動によって私たちは刺激を受け、理解しがたい他者の行為や言葉を見聞きしようとする関心を持ち、自分を変容させる公共性の場を開くことができる。彼女自身がドイツ生まれの (ウ) 人であったという人物でもあったため、イスラエルで行われたナチスドイツの親衛隊将校アイヒマン裁判を傍聴し、その様子を記した書籍の中でアイヒマンについて「凡庸な悪」と表現したことは有名である。

	(ア)	(イ)	(ウ)
①	労働	仕事	ユダヤ
②	労働	仕事	ゲルマン
③	仕事	労働	ユダヤ
④	仕事	労働	ゲルマン
⑤	労働	仕事	スラブ

